

【問題1】 次の問いに答えなさい。

(1) 次の文の「わたし」とは、だれのことですか。人物名を漢字で書きなさい。

ア わたしは、<sup>ほんのうじ</sup>①本能寺で家来の<sup>あけみつひで</sup>明智光秀にせめられ、み  
ずから命をたちました。

ア

イ わたしは、<sup>かまくらばくふ</sup>鎌倉幕府を開いた人物の弟で、<sup>だんのうら</sup>②壇ノ浦で  
<sup>べし</sup>平氏を滅亡に追い込みました。

イ

ウ わたしは、仏教の力により国を治めようと考え、<sup>とうたい</sup>東大  
寺に大仏をつくりました。

ウ

エ わたしは、<sup>しつげん</sup>執権となり、元からの要求を退け、九州の  
守りを固め、2度にわたって元の大軍と戦いました。

エ

オ わたしは、<sup>まつさか</sup>③松阪の医師で、日本人とは何かというこ  
とを考え、「古事記」や「<sup>げんじものがたり</sup>源氏物語」など日本の古典を  
研究しました。

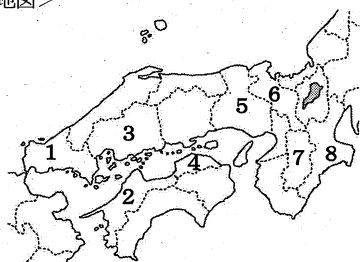
オ

(2) ア～オに書かれている内容を年代の古い  
順に並びかえなさい。

→ → → →

(3) (1) の文中の下線部①～③と最も関係のある府県名を漢字で書きなさい。また、その  
場所を<地図>中の1～8の番号で書きなさい。

<地図>



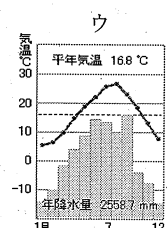
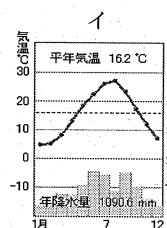
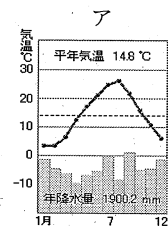
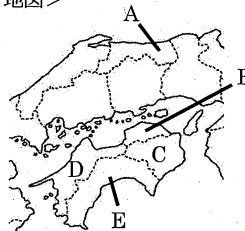
①府県名 番号

②府県名 番号

③府県名 番号

【問題2】 次の問いに答えなさい。

<地図>



(1) <地図>中のA県の県庁所在地の気温と降水量をあらわすグラフをア～ウより選び記号  
で書きなさい。また、それを選んだ理由を書きなさい。

記号 理由

(2) 次の表は、<地図>中のB～E県の主な農産物の生産量をあらわしたものです。D県に  
あたるものを表中のア～エの記号で書きなさい。

	米 (t)	なす (t)	ピーマン (t)	みかん (t)
ア	58,700	29,900	11,900	7,040
イ	76,800	2,300	144	12,900
ウ	78,200	4,380	1,740	115,600
エ	63,600	9,020	833	10,300

【農林水産省資料(2010)】

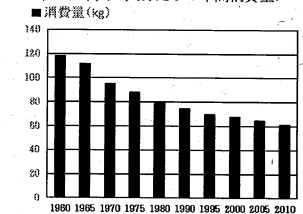
(3) 次の資料を参考にして、E県の農業生産額の変化について、気候や交通などの事情をふ  
まえて、説明しなさい。

<E県の農業生産額の割合の変化>

年	野菜・いも類		果実	
	割合	生産額	割合	生産額
1960年 177億円	49.0%	17.1	12.8	17.5
1980年 1228億円	17.8%	60.2	13.1	12.1
2008年 1026億円	13.5%	60.5	8.3	8.1

【農林水産省統計表 平成21～22年、ほか】

<米の日本人1人あたりの年間消費量>



【『米をめぐる状況について』平成27年3月農林水産省】

<本州四国連絡橋の開通年>

児島一坂出	1988年全線開通
神戸一鳴門	1998年全線開通
尾道一今治	1999年全線開通

説明欄